

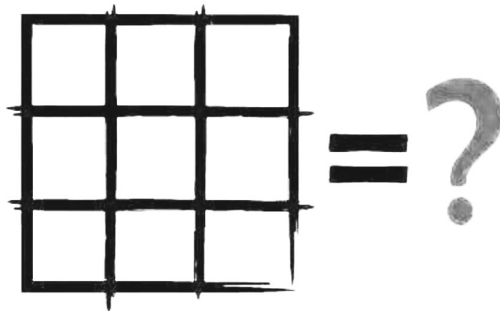
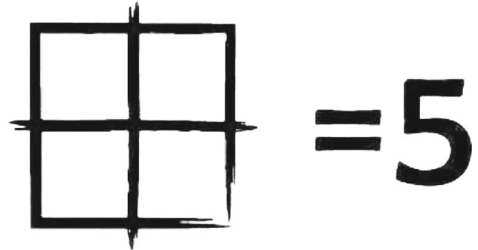
Прізвище, ім'я, клас навчання: _____ Дата виконання _____

Початок виконання (год:хв): _____ Завершення виконання (год:хв): _____

Задача 1 — для розминки.


$5 + 3 = 835$, $2 + 4 = 642$, $7 + 0 = 707$, $6 + 1 = ???$ Відповідь: _____

Задача 2 — в якій може бути кілька відповідей.



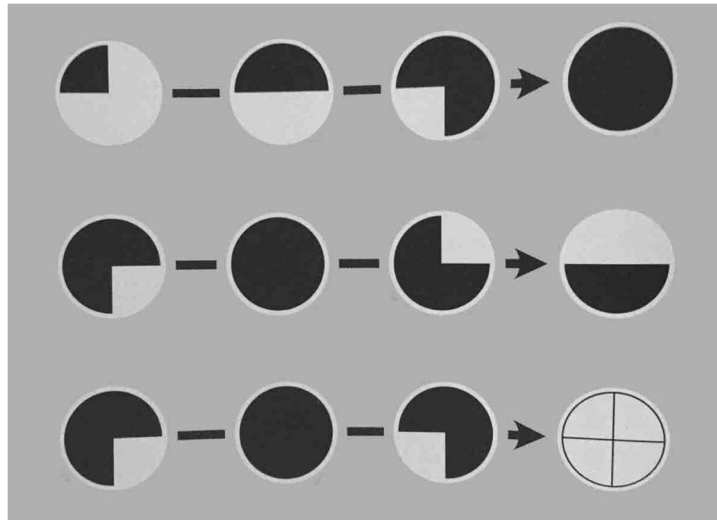
Відповідь (або кілька відповідей) і пояснення: _____

Задача 3 — про цифри і звірів. Підберіть замість зображень тварин цифри так, щоб математично все було вірно. Наприклад, якщо тигр – це цифра три, а пума – цифра п'ять, то перше число – 33, а друге – 35. Але тоді сума не буде тризначним числом, в якому всі цифри – однакові.




Відповідь: тигр: _____, пума: _____, лев _____

Задача 4 — про зафарбовані кола. Знайдіть логіку і зафарбуйте відповідні частини в останньому прикладі.



Задача 5 — про нерівну фігуру. Розділіть однією лінією (можна нерівною) фігуру дві рівні частини. Якщо наплутаєте, то можете взяти чисті бланки для цього завдання, намалювати і приклеїти відповідь до бланку



Задача 6 – заповніть пусті білі клітинки цифрами так, щоб математично все було вірно. Цифри можуть повторюватися. Якщо наплутаєте, то можете взяти чисті бланки для цього завдання, заповнити і приклеїти відповідь до бланку.

	-		=	
-		-		-
	-		=	
=		=		=
	-	6	=	